

يرجع يوم الجمعة 30 نونبر 2012

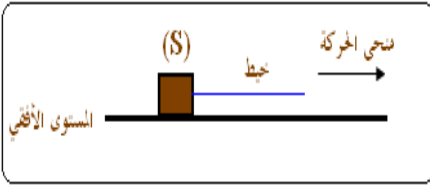
## فيزياء 1

نعتبر جسما S كتلته  $m = 500 \text{ Kg}$  يوجد على سطح الأرض.

1. أعط نص قانون نيوتن للتجاذب الكوني.
2. أعط تعبير شدة وزن هذا الجسم  $P_0$  بدلالة الكتلة  $m$  وشدة الثقالة  $g_0$ ، أحسب قيمة  $P_0$ .
3. أعط تعبير قوة التجاذب الكوني  $F$  التي تطبقها الأرض ذي الكتلة  $M$  والشعاع  $R$  على الجسم  $S$ .
4. نحمل دوران الأرض حول نفسها ونقبل أن شدة وزن الجسم تساوي شدة قوة التجاذب الكوني، بين أن:  $g_0 = G \cdot \frac{M}{R^2}$ .
5. استنتج كتلة الأرض  $M$ . نعطي:  $g_0 = 9,80 \text{ N.Kg}^{-1}$ ;  $G = 6,67 \cdot 10^{-11} \text{ N.m}^2.\text{Kg}^{-2}$ ;  $R = 6380 \text{ Km}$ .
6. نعتبر أن الأرض كروية الشكل، أحسب الكتلة الحجمية للأرض  $\rho_{\text{terre}}$  ب  $(\text{Kg/m}^3)$ . نذكر أن حجم كرة شعاعها  $R$  هو:  $V = \frac{4}{3} \cdot \pi \cdot R^3$ .
7. نعتبر الجسم  $S$  السابق، بحيث يوجد على ارتفاع  $h=5000 \text{ m}$  من سطح الأرض. تتغير  $g$  شدة الثقالة بالقرب من سطح الأرض مع تغير قيمة الارتفاع  $h$  حسب العلاقة التالية:  $g_h = g_0 \cdot \frac{R^2}{(R+h)^2}$ . أحسب قيمة  $g_h$  شدة مجال الثقالة عند هذا الارتفاع  $h$ ، واستنتج  $P_h$  شدة وزن الجسم  $S$  عند هذا الارتفاع.

## فيزياء 2


نقوم بجر جسم صلب (S) كتلته  $m=200 \text{ g}$  بواسطة خيط فوق مستوى أفقي (أنظر الشكل) حيث تتم الحركة باحتكاك. نعطي:  $g = 10 \text{ N.Kg}^{-1}$ .



— شدة القوة التي يطبقها الخيط على الجسم (S) هي:  $F = 3 \text{ N}$ .

— شدتا المركبتين  $R_N$  و  $R_T$  المماسية والمنظمة لقوة تأثير السطح على التوالي:  $2 \text{ N}$  و  $3,46 \text{ N}$ .

1. أحسب القوى المطبقة على الجسم (S).
2. أحسب  $R$  منظم القوة  $\vec{R}$  المقرونة بتأثير السطح.
3. مثل القوى المطبقة على الجسم (S) باستعمال السلم:  $1 \text{ cm} \longrightarrow 1 \text{ N}$ .
4. أوجد معامل الاحتكاك  $k$  وزاوية الاحتكاك  $\varphi$ .
5. نحمل الآن جميع الاحتكاكات، ويبين التسجيل أسفله بالسلم الحقيقي مواضع النقط التي يمر منها الجسم (S) خلال مدد زمنية متتالية ومتساوية:  $\tau = 20 \text{ ms}$ .
  - 1.5. أحسب السرعة اللحظية للنقطة A عند المواضع  $A_2$  و  $A_4$  و  $A_7$ .
  - 2.5. مثل متجهة السرعة اللحظية في هذه المواضع ( $A_2$  و  $A_4$  و  $A_7$ ) بالسلم:  $1 \text{ cm} \longrightarrow 0,5 \text{ m/s}$ . استنتج طبيعة حركة الجسم (S).
  - 3.5. نعتبر  $A_3$  أصل معلم الفضاء و لحظة تسجيل  $A_0$  أصل معلم الزمن. أكتب المعادلة الزمنية لحركة الجسم.



## كيمياء 1

لتحضير الزيت العطرية المستخرجة من الخزامى، نجر عملية التقطير المائي (أنظر الشكل — أ)، فنحصل على قطارة عطرية للخزامى.

1. أعط أسماء العدة التجريبية الواردة في الشكل — أ.
2. نضيف للقطارة كمية من أحد مذيبات الجدول أسفله، ثم نصب الخليط في أنبوب التصفيق.

المذيب	الكثافة	ذوبانية زيت عطر الخزامى
ثنائي كلوروميثان	1,13	متوسطة
السيكلوهكسان	0,78	كبيرة
الماء	1,00	ضعيفة

1.2 . حدد معللا جوابك، المذيب الملائم لهذه العملية.

2.2 . ارسم أنبوب التصفيق محمدا الطور الميه والطور العضوي، معللا جوابك.

3.2 . القطارة المحصل عليها خليط غير متجانس، نضيف إليها كلورور الصوديوم الصلب. لماذا تسمى هذه العملية، وما الهدف منها؟.

4.2 . لتجفيف الطور العضوي من قطرات الماء ، نضيف مادة متعطشة للماء. أعط مثلا لذلك.

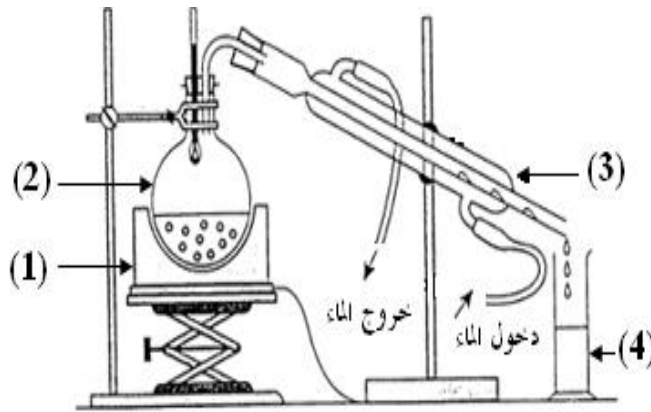
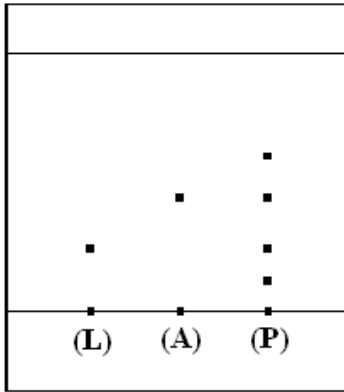
3. تبرز لصيقة منتج منزلي أنه يحتوي على مستخلصات معطرة مستخرجة من الخزامى. للتأكد من هذه المعلومات ، ننجز تحليلا كروماتوغرافيا على طبقة رقيقة.

على صفيحة التحليل الكروماتوغرافي (C.C.M) ، نضع ثلاث بقع (L) و (A) و (P)، ونضعها في مذيب مناسب، ثم نمرر عليها بخار ثنائي اليود، فنحصل على الكروماتوغرام أسفله : (P) : المنتج المنزلي ، (L) : اللينالول ، (A) : أسيتات الليناليل

1.3 . ما هو دور بخار ثنائي اليود.

2.3 . كم نوعا كيميائيا يحتوي عليه هذا المنتج، وما هما النوعان الكيميائيان الممكن التعرف عليهما؟

3.3 . أحسب النسبة الجبهية لذين النوعين الكيميائيين ، واستنتج أي من النوعين أكثر ذوبانية في المذيب.



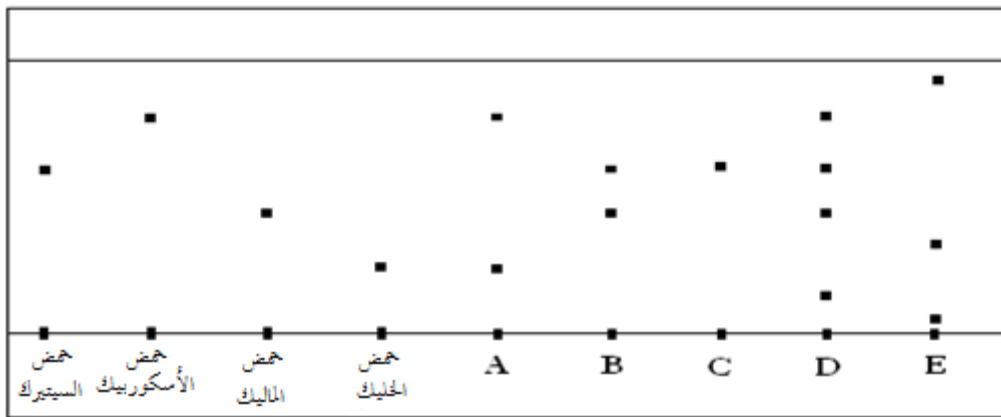
الشكل - أ

## كيمياء 2

ننجز التحليل الكروماتوغرافي لعينات خمسة محاليل : A و B و C و D و E ، للتعرف فيما اذا كانت تحتوي على :

حمض الأسكوربيك ، حمض الخليك ، حمض المالك ، حمض الستريك .

بعض اظهار البقع ، نحصل على الكروماتوغرام التالي:



1. أذكر بعض التقنيات المعتمدة لاظهار بقع عديمة اللون على صفيحة التحليل الكروماتوغرافي (C.C.M)

2. حدد المواد الخالصة والمواد المركبة.

3. حدد الأحماض الموجودة في المحاليل : A و B و C و D و E.

4. أحسب النسبة الجبهية للأحماض الأربعة.

5. رتب معللا جوابك ، هذه الأحماض حسب تزايد ذوبانيتها في المذيب ( الطور المتحرك).